


Karin Guttman

MATEMATIK

häfte

9



Tag fram en meterlinjal eller en tumstock och din egen linjal med cm och mm.

1, heltal	3 tion- del	6 hundra- del	9 tusen- del	m
<i>m</i>	<i>dm</i>	<i>cm</i>	<i>mm</i>	

Det som står framför kommatecknet är alltid heltal.
Här är det meter, dvs 1 hel meter. Se på meterlinjalen!

Efter kommatecknet står tiondelarna.
1 m = 100 cm. Här är tiondelarna dm. Se på meterlinjalen!

Andra siffran efter kommatecknet är hundradelar.
1 m = 100 cm. Här är hundradelarna cm. Se på din egen linjal!

Tredje siffran efter kommatecknet är tusendelar.
1 m = 1 000 mm. Här är tusendelarna mm. Se på din egen linjal!

Mär nu upp 1,369 m på golvet med hjälp av linjalerna!

Kryssa i det rätta svaret!

I talet **3,748** är ...

3..... heltal tiondel hundradel tusendel

7..... heltal tiondel hundradel tusendel

4..... heltal tiondel hundradel tusendel

8..... heltal tiondel hundradel tusendel

Vinter-
NYHET

Pris 100:-



När tröjan kommer
ny till affären

betalar du 100% = _____ kr

Vår-
REA



Till våren blir det REA
på tröjan.

Du betalar 75% = _____ kr

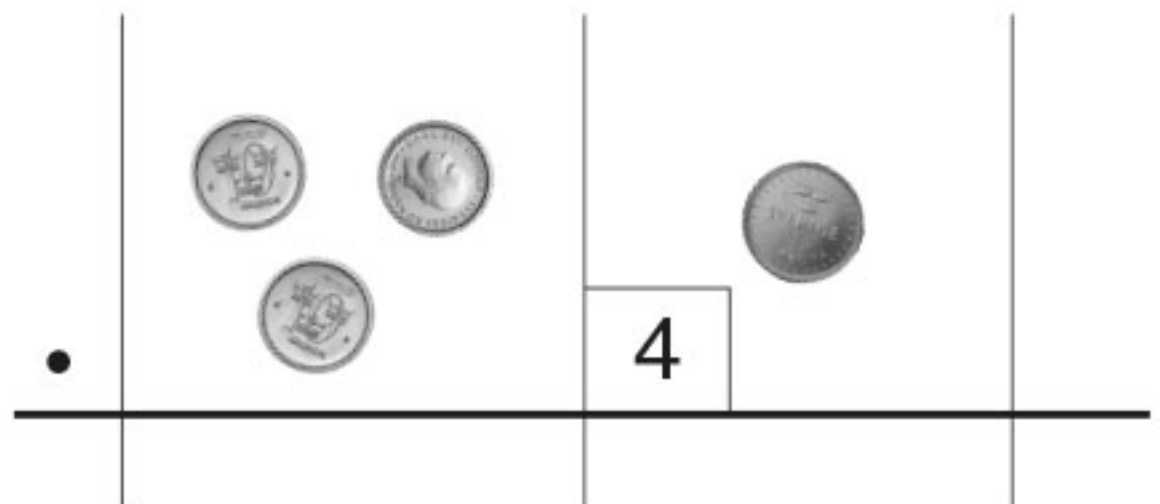
Lager-
rensning



Efter sommaren sätts
tröjan ner ännu mer.


Du betalar bara 50% = _____ kr

Ni är fyra kamrater som ska äta hamburgare.
Hamburgarna kostar 31 kr. Hur mycket ska ni betala?




Först tar vi enkronan!

$$4 \cdot 1 \text{ enkrona} = \underline{\hspace{2cm}} \text{ enkronor}$$



Fortsätt med tiokronorna!

$$4 \cdot 3 \text{ tiokronor} = \underline{\hspace{2cm}} \text{ tiokronor}$$



Vi växlar de 12 tiokronorna till en hundrakronor sedel och 2 tiokronor

Ni ska betala 102 kr.

Nu ska vi räkna "i huvudet" igen.

Du köper en påse "salta bomber" för **9,90** kr och en chokladkaka för **19,50** kr.

Hur mycket kostar det?


$$\begin{array}{r} 9,90 \\ + 19,50 \\ \hline \end{array}$$

När du räknar med decimaltal måste du vara noggrann med att sätta "kommatecken" mitt under varandra.



Du handlar en t-shirt på rea för **59,90** kr och ett par shorts för **199,50** kr.

Vad ska du betala?



_____ kr

Du har **250 kr** med dig. Räcker det?

Kryssa i rätt svar! Ja

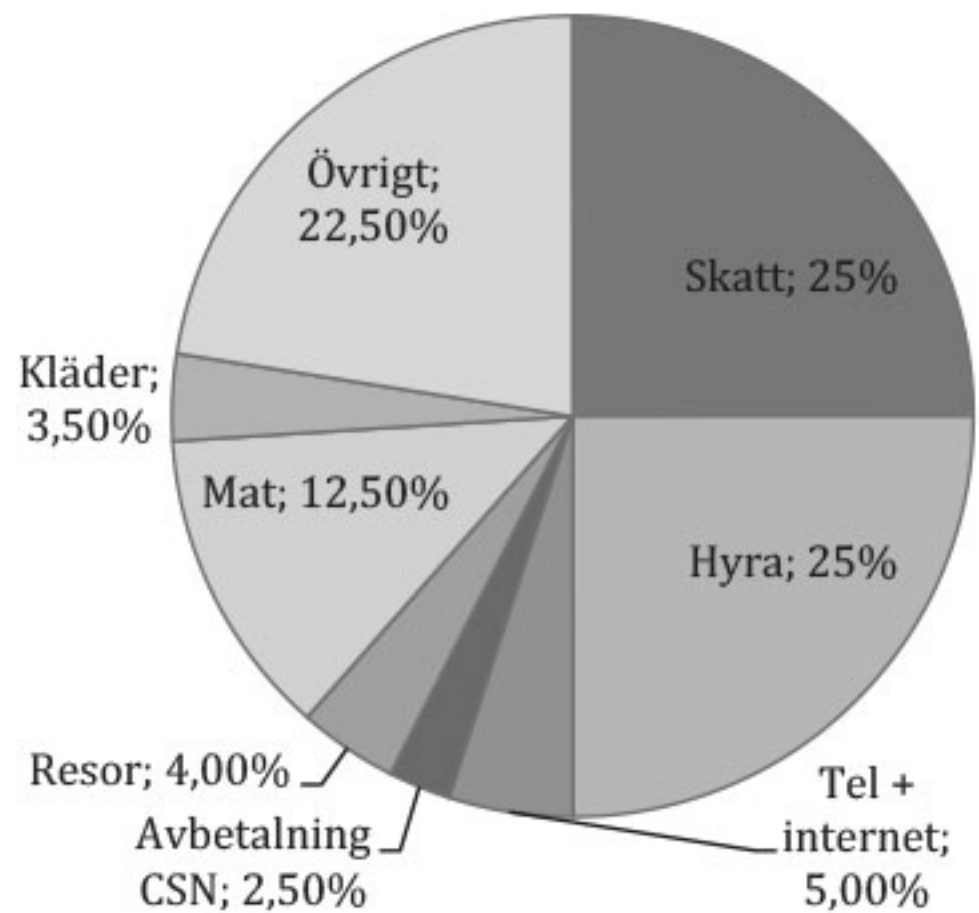
Nej

I häfte 8 arbetade vi med matkostnader och kostnader för kläder på sidorna 26 - 30.

Du kan titta på det igen så kommer du ihåg.

Den som får lön för sitt arbete ska betala många saker med lönen. Vi räknar med **20 000 kr i månaden**.

Skatt	5 000
Hyra	5 000
Tel, TV + Internet	1 000
Avbetalning CSN	500
Buskort	800
Mat	2 500
Kläder	700
Övrigt	4 500



Först drar arbetsgivaren skatt på lönen.

Hur mycket pengar dras i skatt? _____ kr.

Sedan ska hyran betalas.

Hur hög är hyran? _____ kr.

Telefon, internet _____ kr.

Resor _____ kr.

Mat _____ kr.

Kläder _____ kr.

Övrigt _____ kr.

