


Karin Guttman

# MATEMATIK

häfte

8



## MULTIPLIKATION

---



Läraren delar ut tre böcker till varje barn.

Det finns fyra barn i klassen idag.

Hur många böcker delas ut?

\_\_\_\_\_ = \_\_\_\_\_ böcker.



Elin köper sex bullar. Bullarna kostar tio kronor styck.

Vad ska hon betala?

\_\_\_\_\_ = \_\_\_\_\_ kr.



Det finns chokladkakor som man kan dela i fyra bitar. Om du har två sådana chokladkakor, hur många bitar kan du bryta då?

\_\_\_\_\_ = \_\_\_\_\_ bitar.



En stol har fyra ben. Hur många ben har fyra stolar?

\_\_\_\_\_ = \_\_\_\_\_ ben.

**Kryssa i rätt ruta!**

En bil väger..... 10 kg       100 kg       1000 kg

En skyskrapa är minst ..... 1 m       10 m       100 m

Eiffeltornet i Paris är ..... 30 m       300 m       3000 m

En Formel 1 bil kör ..... 30 km/h       300 km/h       3000 km/h

Ett flygplan flyger..... 10 km/h       100 km/h       1000 km/h

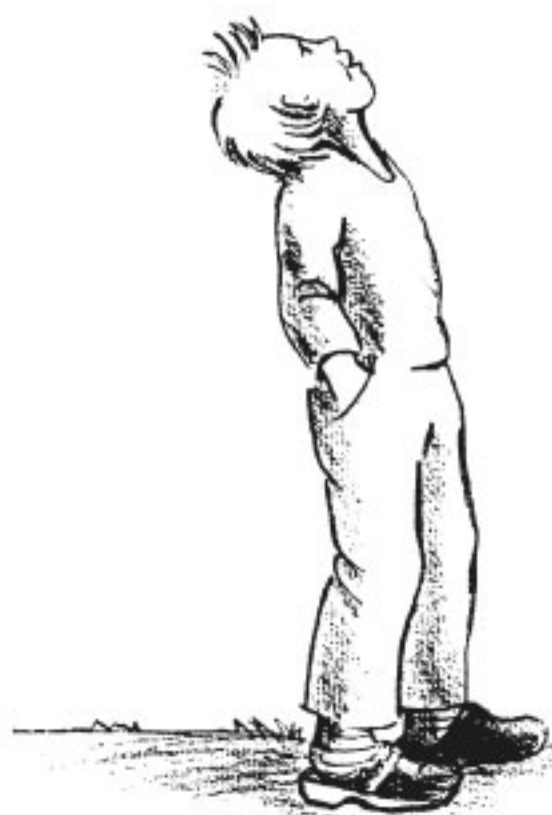
En gepard springer..... 10 km/h       100 km/h       1000 km/h

Världens högsta berg är ... 880 m       8800 m       88000 m

Europas högsta berg är .... 480 m       4800 m       48000 m

Vill du veta om du har kryssat i rätt svar?

Vänd på bladet och läs!



En bil väger 1000 kg.  
En skyskrapa är minst 100 m hög.  
Eiffeltornet är 300 m högt.  
Formel 1 bil kör i 300 km/h.  
Flygplan flyger i 1000 km/h.  
Mount Everest är 8800 m.  
Mount Blanc är 4800 m.



## LÖNER OCH KOSTNADER

Vet du hur mycket du kostar?

Jag menar inte något pris på dig, jag menar hur mycket kostar maten du äter, kläderna du köper och allt annat som du behöver.

Varje år räknar Konsumentverket ut vad som är en rimlig kostnad för exempelvis mat och kläder i olika åldrar.

Vi ska titta lite på matkostnaderna 2016.

Livsmedel per månad	barn 2-5 år	barn 6-9 år	flickor 10-13 år	pojkar 10-13 år	flickor 14-17 år	pojkar 14-17 år	kvinnor 18-30 år	män 18-30 år	kvinnor 31-60 år	män 31-60 år
Lunch äts ute 5 dagar	720	1180	1310	1490	1460	1880	1430	1880	1400	1780

Hur mycket kostar din mat under en månad, enligt tabellen?

\_\_\_\_\_ kr.



Hur mycket kostar maten i din familj under en månad?

\_\_\_\_\_ = \_\_\_\_\_ kr.

\_\_\_\_\_ = \_\_\_\_\_ kr.

Så tar vi en titt på Konsumentverkets sammanställning av klädkontot.

Kläder och skor per månad	barn 1-3 år	barn 4-6 år	barn 7-10 år	flickor 11-14 år	pojkar 11-14 år	flickor 15-17 år	pojkar 15-17 år	kvinnor 18- år	män 18- år
	450	530	580	590	590	600	600	610	600

Hur mycket kostar dina kläder per månad,  
enligt tabellen?

\_\_\_\_\_ kr.

Hur mycket kostar kläderna till din familj,  
enligt tabellen?

\_\_\_\_\_ = \_\_\_\_\_ kr.

Hur mycket kostar kläderna för dig och dina  
klasskamrater tillsammans?

\_\_\_\_\_ = \_\_\_\_\_ kr.

\_\_\_\_\_ = \_\_\_\_\_ kr.

Vad är dyrast per månad?  
Kläder eller mat? Kryssa i rätt svar!

KLÄDER     MAT



# MULTIPLIKATION

---



$1 \cdot 6 = \underline{\hspace{2cm}}$



$2 \cdot 6 = \underline{\hspace{2cm}}$



$3 \cdot 6 = \underline{\hspace{2cm}}$



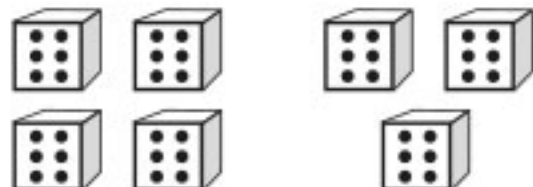
$4 \cdot 6 = \underline{\hspace{2cm}}$



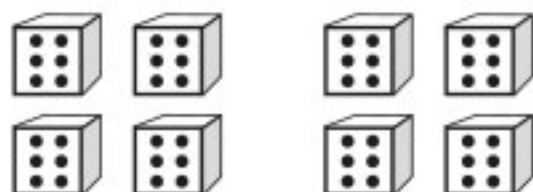
$5 \cdot 6 = \underline{\hspace{2cm}}$



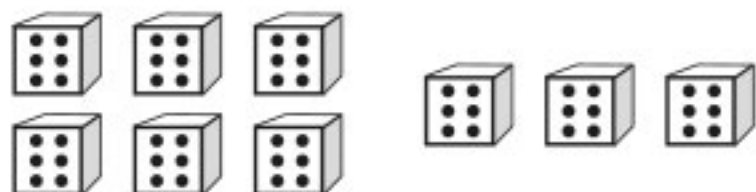
$6 \cdot 6 = \underline{\hspace{2cm}}$



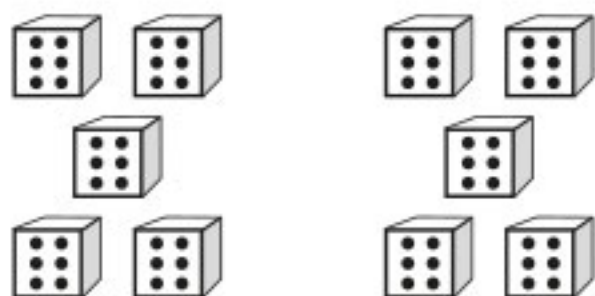
$7 \cdot 6 = \underline{\hspace{2cm}}$



$8 \cdot 6 = \underline{\hspace{2cm}}$



$9 \cdot 6 = \underline{\hspace{2cm}}$



$10 \cdot 6 = \underline{\hspace{2cm}}$