



ROLIG RÄKNING 3

LENA HEDLUND

Hur många tiotal och ental ser du?



_____ tiotal _____ ental= _____




_____ tiotal _____ ental= _____




_____ tiotal _____ ental= _____



_____ tiotal _____ ental= _____



_____ tiotal _____ ental= _____



_____ tiotal _____ ental= _____

Vad tror du att det kostar?
Dra streck mellan sak och pengar.



= _____ kr



= _____ kr



= _____ kr



= _____ kr

Addition

	5	0				3	0					5	0	
+	2	0			+	3	0					+	4	0
<hr/>					<hr/>							<hr/>		
	5	0				3	0						2	0
+	3	0			+	2	0					+	2	0
<hr/>					<hr/>							<hr/>		
	5	0				1	0						7	0
+	5	0			+	1	0					+	2	0
<hr/>					<hr/>							<hr/>		
	3	0				4	0						5	0
+	1	0			+	4	0					+	4	0
<hr/>					<hr/>							<hr/>		

Fem-ramsan.

Fyll i de tomma rutorna.

5	10	15	20	25	30
---	----	----	----	----	----

5		15		25	
---	--	----	--	----	--

	10		20		30
--	----	--	----	--	----

5		15			
---	--	----	--	--	--

--	--	--	--	--	--



= 10 kr



= _____



= _____

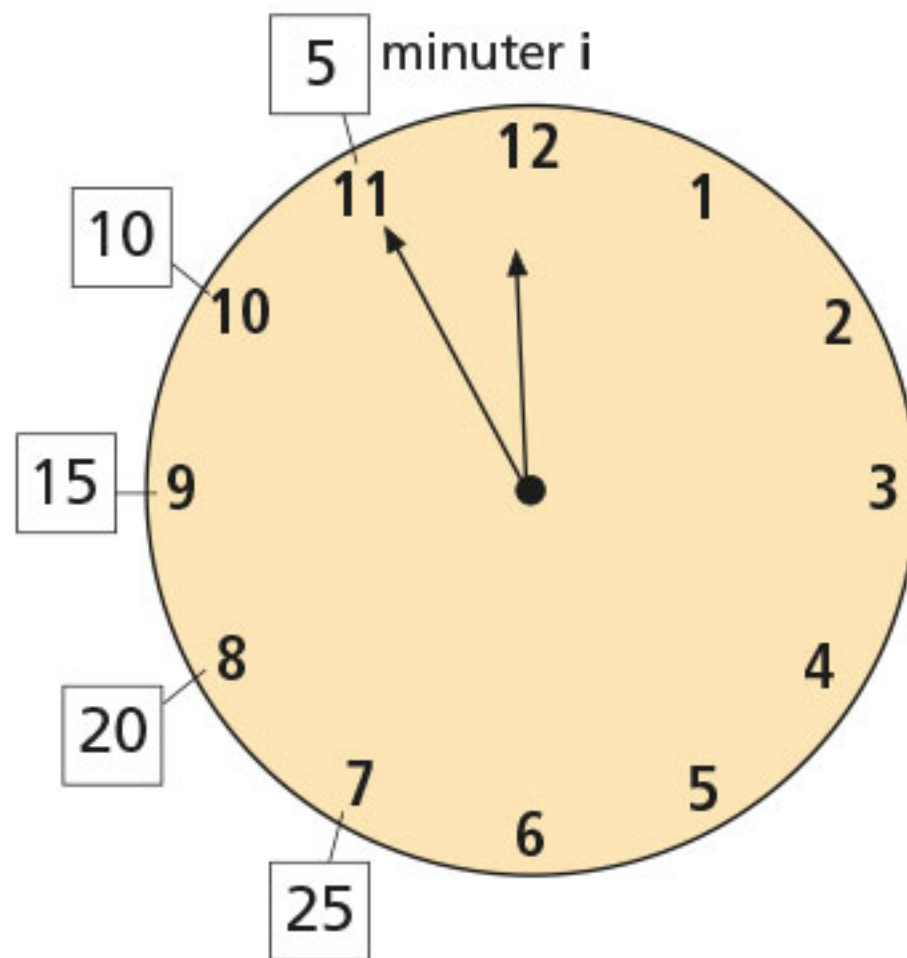


= _____



= _____

Klockan



Fyll i de tomma rutorna.

