

FEMTE BOKEN

# RÄKNE BÖCKER ERNA

TALEN

10, 20, 30, 40, 50  
60, 70, 80, 90, 100

EVA HÄGGSTRÖM

Räkna streck.

III					____ _

III					____ _

III					____ _

					____ _

III III					____ _

Räkna med plus och minus.



$$50 + 10 = \underline{\hspace{2cm}}$$

$$20 - 10 = \underline{\hspace{2cm}}$$

$$40 - 10 = \underline{\hspace{2cm}}$$

$$10 + 10 = \underline{\hspace{2cm}}$$

$$90 + 10 = \underline{\hspace{2cm}}$$

$$90 - 10 = \underline{\hspace{2cm}}$$

$$100 - 10 = \underline{\hspace{2cm}}$$

$$70 + 10 = \underline{\hspace{2cm}}$$

$$10 - 10 = \underline{\hspace{2cm}}$$

$$40 + 10 = \underline{\hspace{2cm}}$$

$$50 - 10 = \underline{\hspace{2cm}}$$

$$90 + 10 = \underline{\hspace{2cm}}$$

$$80 + 10 = \underline{\hspace{2cm}}$$

$$60 - 10 = \underline{\hspace{2cm}}$$

$$20 + 10 = \underline{\hspace{2cm}}$$

$$30 + 10 = \underline{\hspace{2cm}}$$

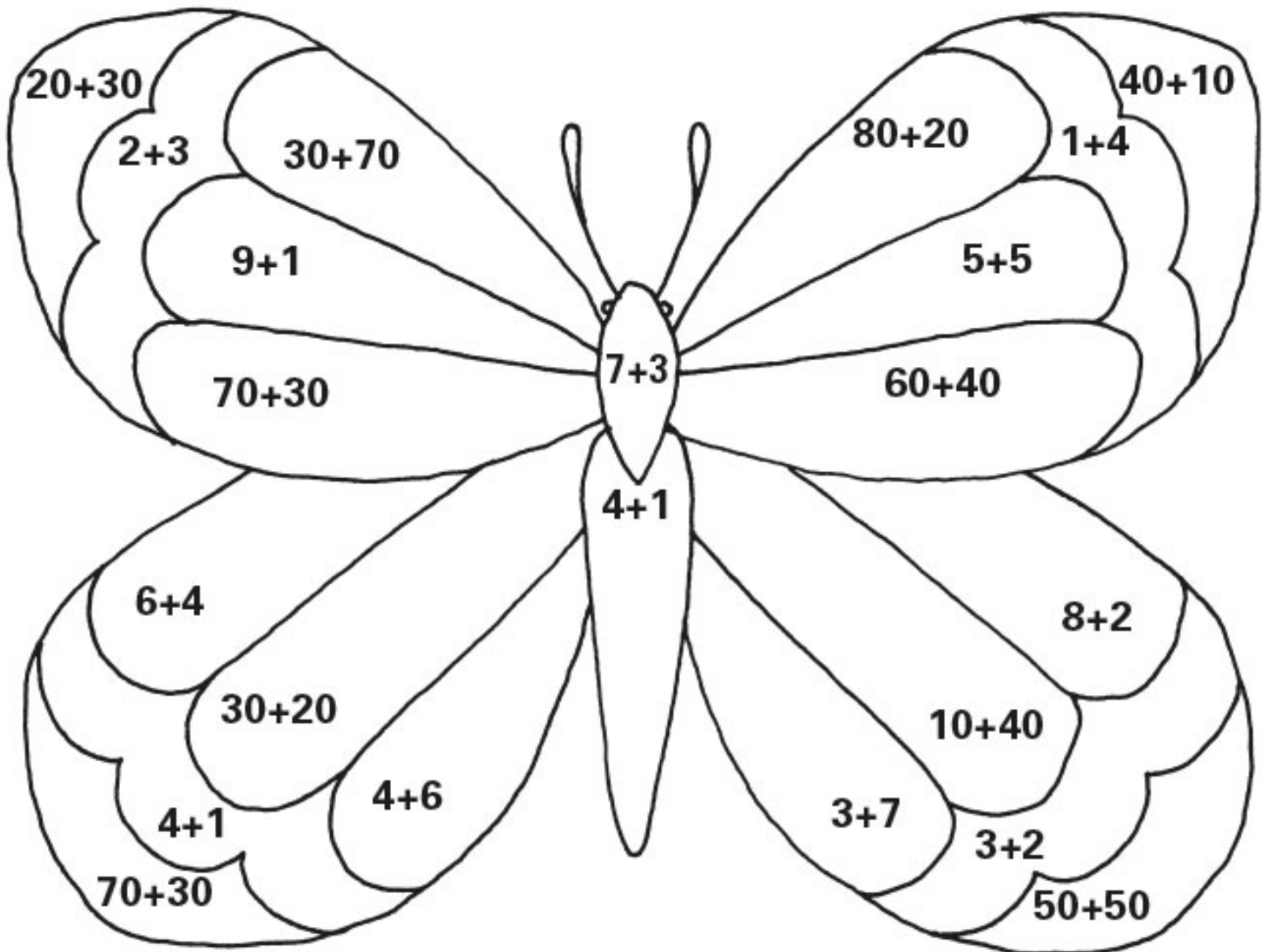
$$80 - 10 = \underline{\hspace{2cm}}$$

$$30 - 10 = \underline{\hspace{2cm}}$$

$$60 + 10 = \underline{\hspace{2cm}}$$

$$70 - 10 = \underline{\hspace{2cm}}$$

Räkna och måla.



5	svart
10	orange
50	röd
100	gul

Eleven målar enligt anvisningarna.

Rita på olika sätt.

80 kr

80 kr

80 kr

90 kr

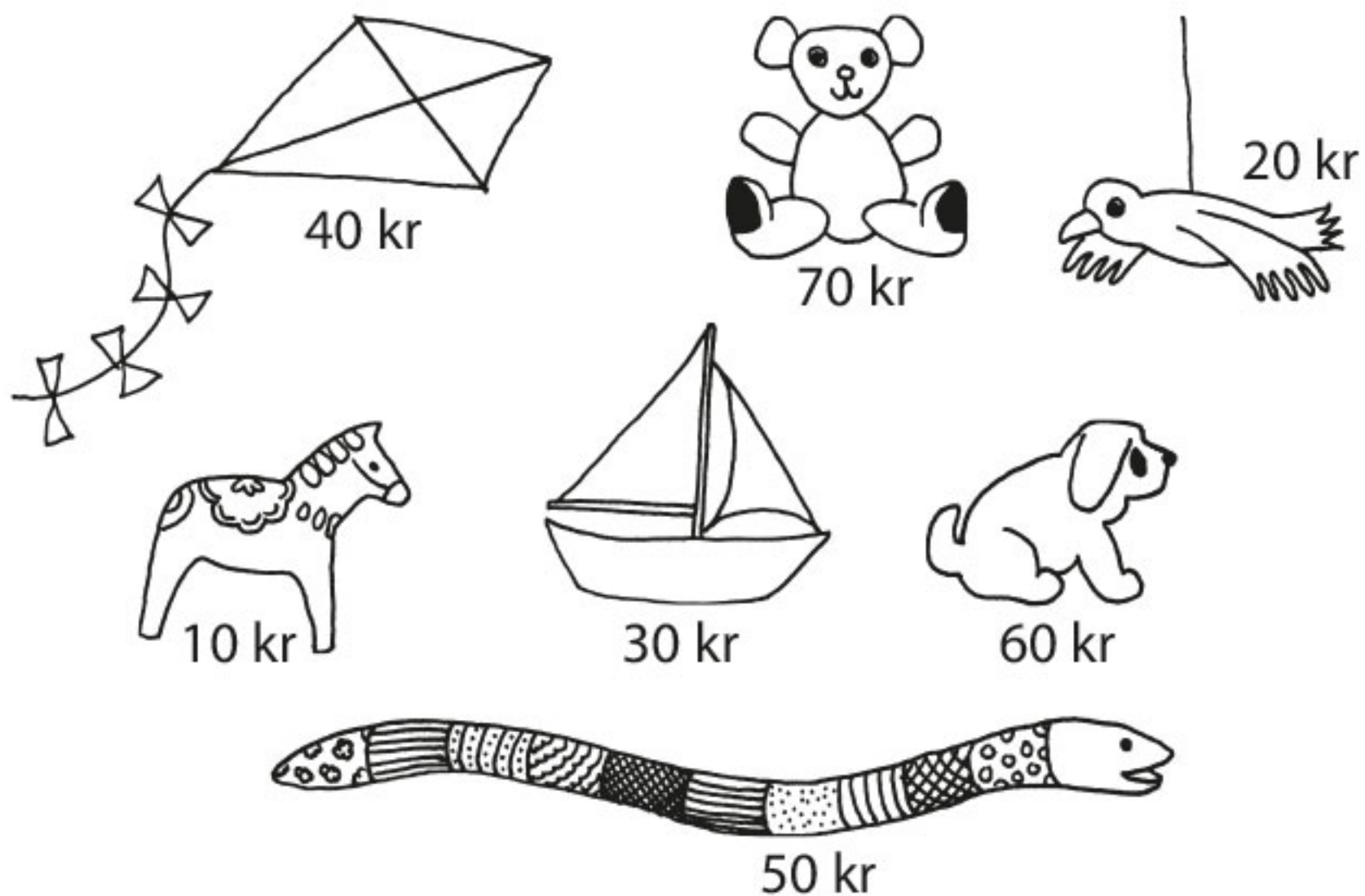
90 kr



Se sidan 37.

★ Eleven leker affär med en kamrat. Alla varor kostar jämna tiotal kronor. Eleverna har tillgång till tior och sedlar upp till hundralappar. Kunden betalar alltid med en hundralapp, och får pengar tillbaka.



Hur mycket kostar det?



	<hr/>
	<hr/>

Eleven räknar ut vad varorna kostar, gärna med hjälp av miniräknare, och skriver 70 kr osv.