



# För mycket länge sedan


1. Vad är jorden?



2. Vad är stjärnorna på himlen?



3. a) Var befinner sig stjärnorna?



b) Ta fram ett papper och rita en stjärna.

4. Skriv och förklara med egna ord vad en stjärna är.



# Solsystemet

1. Hur många planeter finns i närheten av jorden?

2. Vad heter en av de största planeterna?

3. Vad består Saturnus ringar av?

4. Vad består vårt solsystem av?

5. Varför får inte Pluto kallas för planet längre?

# Solen

1. Vad är vår sol?


2. Är solen ensam i världsrymden?

3. Kretsar solen kring jorden eller kretsar jorden kring solen?


4. a) Hur stor är solen jämförd med jorden?

b) Rita solen och jorden bredvid varandra på ett papper.

b) Hur många stjärntecken finns det?



c) Skriv de svenska namnen på stjärnbilderna. De börjar med Vattumannen.



d) Rita gärna en bild av varje stjärntecken på ett papper.

6. Varför ser det ut som om stjärnorna flyttar sig på himlen?



8. Var befinner sig Polstjärnan?

